

س ١	القسم : الكمي
أقرب عدد للعدد ٧ هو :	
أ	٦,٥
ب	٦,٦
ج	٧,٥
د	٧,٧

س ٢	القسم : الكمي
ما آحاد العدد 92793×99994	
أ	٢
ب	٣
ج	٤
د	٨

س ٣	القسم : الكمي
صندوق به ٣ صناديق متوسطة وكل صندوق متوسط بداخله ٣ صناديق فإن العدد الإجمالي للصناديق هو :	
أ	١٠
ب	١١
ج	١٢
د	١٣

س٤	القسم : الكمي
إذا كانت نسبة الأولاد إلى البنات في مدرسة اطفال ٣ : ٥ ، والعدد الكلي للأطفال ٣٢٠ طفلاً، فما عدد الأولاد؟	
أ	٨٠
ب	٩٠
ج	١٢٠
د	١٦٠

س٥	القسم : الكمي
$= {}^2(٠,٢) + {}^2(٠,٢) + ٠,٢ + ٢$	
أ	٢,٢٢٢
ب	٢,٢٤٨
ج	٢,٨٤٢
د	٢,٨٢٤

س٦	القسم : الكمي
إذا كان $٥ - س٢ = ٥ - س٣ - ٦$ ، فما قيمة س ؟	
أ	٠
ب	١
ج	٢
د	٣

س٧	القسم : الكمي
أب لديه ثلاثة أبناء، الأول يزوره كل ٥ أيام، والثاني يزوره كل ٦ أيام، والثالث يزوره كل ١٠ أيام، فكم مرة يلتقي الأبناء خلال شهرين، من بداية أول لقاء؟	
أ	٣
ب	٤
ج	٥
د	٦

س٨	القسم : الكمي
ما العدد الذي خُمُسُه يساوي ٠,٤ ؟	
أ	٢
ب	٤
ج	٥
د	١٠

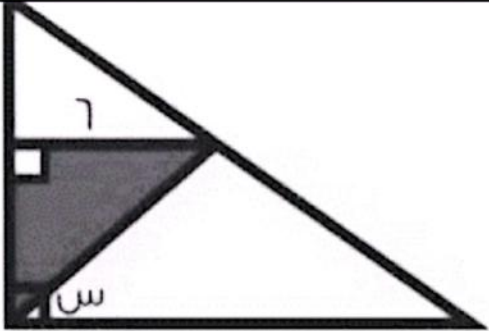
س٩	القسم : الكمي
عددين صحيحين موجبين النسبة بينهما (٥ : ٩) وقاسمهما المشترك الأكبر هو (٤) فما هو مضاعفهما المشترك الأصغر ؟	
أ	٣٦٠
ب	١٨٠
ج	٩٠
د	٤٥

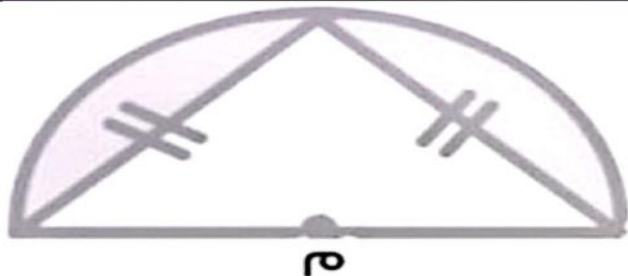
س ١٠	القسم : الكمي
س ٢ = ص ٢ + ١٦ ، س + ص = ٢ أوجد س - ص ؟	
أ	٨
ب	١٦
ج	٢
د	٣٢

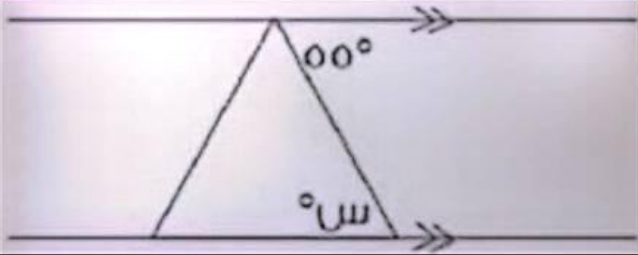
س ١١	القسم : الكمي
ثلاثة أعداد متتالية إذا كان مجموعهم ضعف العدد الأكبر فإن أكبرهم ؟	
أ	٦
ب	٣
ج	١٦
د	٨

س١٢		القسم : الكمي	
إذا كان $س + ص + ع = ١٢$ ، $ص = ع$ ، مع العلم أن $س$ ، $ص$ ، $ع$ أعداد صحيحة :			
قارن بين			
٧		ع	
أ	القيمة الأولى أكبر		
ب	القيمة الثانية أكبر		
ج	القيمتان متساويتان		
د	المعطيات غير كافية		

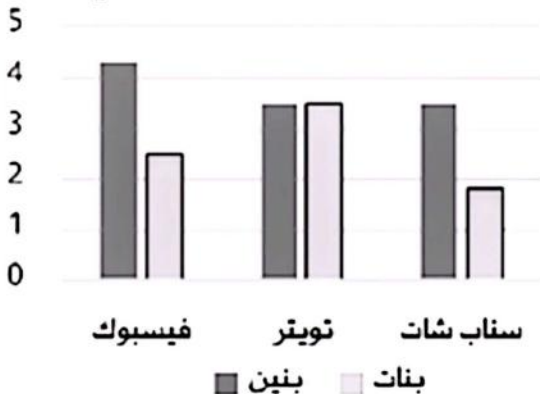
س١٣		القسم : الكمي
كم درجة يصنعها عقرب الدقائق في ثلث يوم؟		
أ	٧٢٠	
ب	١٤٤٠	
ج	٢٨٨٠	
د	٤٣٢٠	

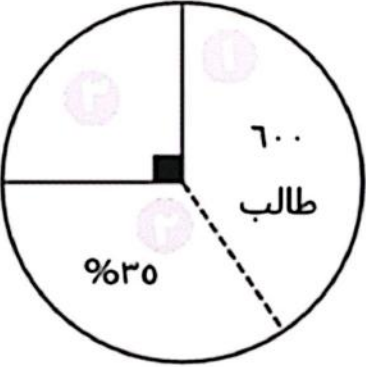
س١٤	القسم : الكمي
<div style="display: flex; justify-content: space-between; align-items: center;"> <div style="text-align: right;"> <p>اذا كانت مساحة الجزء المظلل = ١٨ , اوجد قيمه س</p> </div>  </div>	
٦٠	أ
٤٥	ب
٣٥	ج
٣٣	د

س١٥	القسم : الكمي
<div style="display: flex; justify-content: space-between; align-items: center;"> <div style="text-align: right;"> <p>ما مساحة المنطقة المظلة إذا علمت أن قطر الدائرة = ٢٠ ؟</p> </div>  </div>	
$(1 - \frac{1}{2} \pi) 100$	أ
١٥٠	ب
$١٠٠ + ٥٠ \pi$	ج
٣٠٠ ط	د

س١٦		القسم : الكمي
<div style="display: flex; justify-content: space-between; align-items: center;"> <div style="text-align: center;">  </div> <div>قارن بين:</div> </div>		
س		٤٠°
أ	القيمة الأولى أكبر	
ب	القيمة الثانية أكبر	
ج	القيمتان متساويتان	
د	المعطيات غير كافية	

س١٧		القسم : الكمي
<p>خزان يروي الحديقة ب ٦٠ لتر في ٥٠ دقيقة , اذا فرغ في المساء بعد ٥ ساعات فكم سعة الخزان بالمتر مكعب ؟</p>		
أ	٣٠٠	
ب	٣٢٠	
ج	٣٦٠	
د	٤٠٠	

س ١٨		القسم : الكمي
من التمثيل البياني المقابل:		مواقع التواصل الاجتماعي
متوسط استعمال البنين والبنات لتويتر يساوي		
		
أ	٣	
ب	٣,٥	
ج	٤	
د	٥	

القسم : الكمي	س ١٩
	<p>دائرة مقسمة لطلاب المدرسة،</p> <p>(٦٠٠) طالب في الصف الأول ثانوي،</p> <p>٣٥٪ للصف الثاني الثانوي،</p> <p>فإن مجموع طلاب المدرسة يساوي إذا كان</p> <p>زاوية طلاب الصف الثالث الثانوي = ٩٠ °</p>
	أ ١٥٠٠ طالب
	ب ١٢٠٠ طالب
	ج ١٠٠٠ طالب
	د ٩٠٠ طالب

القسم: الكمي

س ٢٠

إذا كان متوسط تسعة أعداد (٢٠)، ومتوسط (٦) منها (٢٥) فـقارن بين:

متوسط الأعداد البقية

٥

القيمة الأولى أكبر

أ

القيمة الثانية أكبر

ب

القيمتان متساويتان

ج

المعطيات غير كافية

د

السؤال	الإجابة الصحيحة
١	ب
٢	ج
٣	د
٤	ج
٥	ب
٦	ج
٧	أ
٨	أ
٩	ب
١٠	أ
١١	ب
١٢	د
١٣	ج
١٤	ب
١٥	أ
١٦	أ
١٧	ج
١٨	ب
١٩	أ
٢٠	ب

س ٢١		القسم : اللفظي
<p>الربط</p> <p>اختر الكلمة المناسبة من بين الخيارات المتاحة لتربط بينها وبين الكلمة في رأس السؤال فيما يلي:</p> <p>(سيارة)</p>		
أ	وقود	
ب	بنزيم	
ج	ديزل	
د	نفط	

س ٢٢		القسم : اللفظي
<p>(المفردة الشاذة)</p> <p>اختر المفردة الشاذة من الخيارات التالية :</p>		
أ	قوة	
ب	شجاعة	
ج	صدق	
د	علم	

س ٢٣	القسم : اللفظي
(المفردة الشاذة)	
اختر المفردة الشاذة من الخيارات التالية :	
أ	قطن
ب	صوف
ج	حرير
د	نسيج

س ٢٤	القسم : اللفظي
(الخطأ السياقي)	
إن الأطفال الذين لا يتكلمون مع آبائهم إلا نزرًا يسيرًا يتعلمون الكلام أكثر	
أ	يتكلمون
ب	آبائهم
ج	يتعلمون
د	أكثر

س ٢٥	القسم : اللفظي
(الخطأ السياقي)	
أقامت الدول المتقدمة مشاريع تعمل بالطاقة الشمسية ، تحسبًا لانخفاض الاستهلاك الكهربائي	
أ	المتقدمة
ب	تعمل
ج	لانخفاض
د	الكهربائي

س ٢٦	القسم : اللفظي
(الخطأ السياقي)	
يساعد إخفاء المهام على إنجاز العمل و عدم الاتكالية و إتمامه بشكل منظم	
أ	يساعد
ب	إخفاء
ج	الاتكالية
د	منظم

س ٢٧	القسم : اللفظي
(الخطأ السياقي)	
الشعر عاطفة غائبة أو فكرة متقدة أو خاطرة عميقة سكبت في قالب موزون الكلام و النغمة	
أ	الشعر
ب	غائبة
ج	متقدة
د	عميقة

س ٢٨	القسم : اللفظي
(إكمال الجمل)	
الفقير ليس من فقد ولكن من فقد	
أ	التقى - الرضا
ب	الذهب - الأدب
ج	التخلص - تنقية
د	الحد - تقنين

س ٢٩	القسم : اللفظي
(إكمال الجمل)	
رمي في الطريق فعل غير	
أ	الحجارة - مقنع
ب	المخلفات - حضاري
ج	المال - حضاري
د	الكتب - مهين

س ٣٠	القسم : اللفظي
(إكمال الجمل)	
الذي يستسلم عند عقبة تواجهه فلن هدفه .	
أ	آخر - يعوق
ب	أول - يحقق
ج	باقي - يرفع
د	بداية - نهاية

س ٣١	القسم : اللفظي
(التناظر اللفظي)	
إفطار : صوم	
أ	سلام : صلاة
ب	نوم : يقظة
ج	حج : احرام
د	مغرب : عشاء

س ٣٢		القسم : اللفظي
(التناظر اللفظي) أصابع : ذراع		
أ	صفحة : كتاب	
ب	غصن : جذور	
ج	شجرة : ثمرة	
د	طبيب : مشرط	

س ٣٣		القسم : اللفظي
(التناظر اللفظي) جمل : وبر		
أ	بقرة : حليب	
ب	طائر : ريش	
ج	كلب : جرو	
د	حمار : رتعة	

(استيعاب المقروء)

أبو الأسود الدؤلي

١- أبوالأسود الدؤلي (١٦٠ ق هـ - ٦٩ هـ) هو ظالم بن عمرو بن سفيان، ولد في الكوفة ونشأ في البصرة، من سادات التابعين وأعيانهم، يعتبر أول من وضع علم النحو فضبط قواعده ووضع باب الفاعل، المفعول به، المضاف ، وحروف النصب والرفع والجر والجزم ، وشكل أحرف المصحف، ووضع النقاط على الأحرف العربية، صحب الإمام علي بن أبي طالب، وشهد معه وقعة صفين ، أصيب بالفالج فكان يجر رجله عندما يذهب إلى السوق .

٢- تولى عدد من المناصب بالبصرة في خلافة عمر بن الخطاب وخلافة عثمان بن عفان ، وفي خلافة علي بن أبي طالب كان عبدالله بن عباس أمير البصرة وكان أبوالأسود الدؤلي كاتباً له، ثم ولاه قضاء البصرة فلما شخّص إلى الحجاز أستخلف على إمرة البصرة أبا الأسود الدؤلي فأقره الخليفة علي بن أبي طالب أميراً على البصرة

س ٤٢- يفهم من النص أن أبا الأسود الدؤلي توفي وعمره:

أ	٦٩ سنة
ب	٧٥ سنة
ج	٨٠ سنة
د	٨٥ سنة

يمكن استبدال كلمة وقعة بـ:

أ	معركة
ب	وقية
ج	صلح
د	مؤامرة

س ٣٦	القسم : اللفظي
(فلما شخص إلى الحجاز) كل الكلمات التالية يمكن أن تحل محل (شخص) باستثناء:	
أ	تشخيص
ب	سفر
ج	حضور
د	ذهاب

س ٣٧	القسم : اللفظي
(فكان يجر رجله) الضمير في (رجله) يعود على:	
أ	علي بن أبي طالب
ب	عمر بن الخطاب
ج	أبو الأسود الدؤلي
د	الفالج

س ٣٨	القسم : اللفظي
عدد الأبواب التي وضعها أبو الأسود الدؤلي في علم النحو:	
أ	١
ب	٣
ج	٤
د	٦

س ٣٩		القسم : اللفظي
كلمة (أستخلف) في النص تكتب صحيحة:		
أ	ستخلف	
ب	أستخلف	
ج	إستخلف	
د	استخلف	

س ٤٠		القسم : اللفظي
علاقة جملة (فكان يجر رجله عندما يذهب للسوق) بما قبلها: (أصيب بالفالج):		
أ	ترادف	
ب	تعليل	
ج	تشبيه	
د	توضيح	

نموذج الاجابة لفظي - قادرون

السؤال	الإجابة الصحيحة
٢١	أ
٢٢	د
٢٣	د
٢٤	د
٢٥	ج
٢٦	ب
٢٧	(د) للحصى - للصغائر
٢٨	(ب) الذهب - الأدب
٢٩	(ب) المخلفات - حضاري
٣٠	(ب) أول - يحقق
٣١	(أ) سلام : صلاة
٣٢	(ب) غصن : جذور
٣٣	(ب) طائر : ريش
٣٤	د
٣٥	أ
٣٦	أ
٣٧	ج
٣٨	ج
٣٩	د
٤٠	د